

令和7年度
第1回
公開実力テスト
中 1
社 会

〔日本のすがたまで選択 …………… タイプ01〕
〔文明と宗教のおこりまで選択 …………… タイプ02〕

注 意

1. この用紙は、先生の合図があるまで、開いてはいけません。
2. 問題は9ページあります。どの問題から始めてもかまいません。
3. 時間は20分です。
4. 先生の指示に従って、解答用紙の氏名欄に氏名を記入しなさい。また、その横の欄に氏名シールを貼るか、ない場合は指定の番号を記入しなさい。
5. 答えは、別紙の解答用紙に、はっきりとていねいに書きなさい。
6. 「やめ」の合図があったら、筆記用具をすぐに置きなさい。



【共通問題】

① 日本の世界遺産の一部を示した次の資料を見て、あとの問いに答えなさい。

カード①

今から 4000 年以上前の人々の暮らしを現代に伝える遺跡が残る。a 貝塚 や土偶、(b) 土器などが見つっている。

カード②

明治時代に建てられた c 工場 の建物が残る。ここではフランスの技術を取り入れて生糸が生産された。

カード③

奈良時代に建てられた神社・寺院、d 当時の都の遺跡 などが残る。

カード④

古墳時代につくられた権力者の墓が多数残る。なかでも、e 大仙古墳 は世界でも有数の規模の墓である。

カード⑤

銀を採掘した 鉱山 の遺跡が残る。f 江戸時代の初めごろには、ここで産出された銀がヨーロッパなど世界各地に運ばれた。

カード⑥

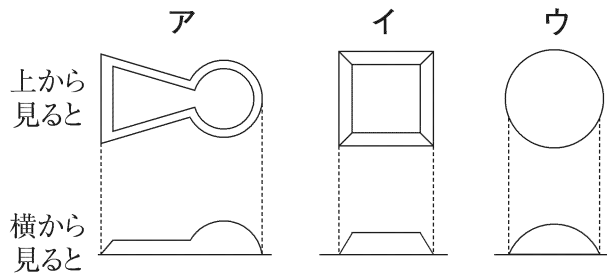
- (1) 下線部 a の貝塚とはどのような場所と考えられているか、次のア～ウから 1 つ選びなさい。
- ア 付近で暮らした人々がお金の代わりに貝をかくした場所。
 - イ 付近で暮らした人々のごみを捨てた場所。
 - ウ 付近で暮らした人々が川や海で集めた食料を保存した場所。

(2) (b) にあてはまる語句を書きなさい。

(3) 下線部 c の工場を何というか、書きなさい。

(4) 下線部 d に関連して、710 年に新しくつくられた都を何というか、書きなさい。

- (5) 下線部 e に関連して、大仙古墳（仁徳天皇陵古墳）の形を大まかに示したものを、次のア～ウから 1 つ選びなさい。



- (6) 下線部 f に関連して、のちに鎖国とよばれるようになる政策をとっていた時期における、江戸幕府とヨーロッパとの貿易について、簡単に説明しなさい。

- (7) カード⑥にあてはまる内容を、次のア～エから 1 つ選びなさい。

- ア 飛鳥時代に建てられた寺院建築が残る。その一部は現存する世界最古の木造建築である。
- イ 平安時代に藤原氏（奥州藤原氏）によって建てられた寺院建築が残る。金などを用いて仏教で説かれる浄土のようすが表現されている。
- ウ 大きな朱塗りの鳥居で知られる神社が残る。平安時代末期には平清盛がここで航海の安全などを祈った。
- エ 室町時代に足利義政によって建てられた寺院建築が残る。その中には書院造の部屋がある。

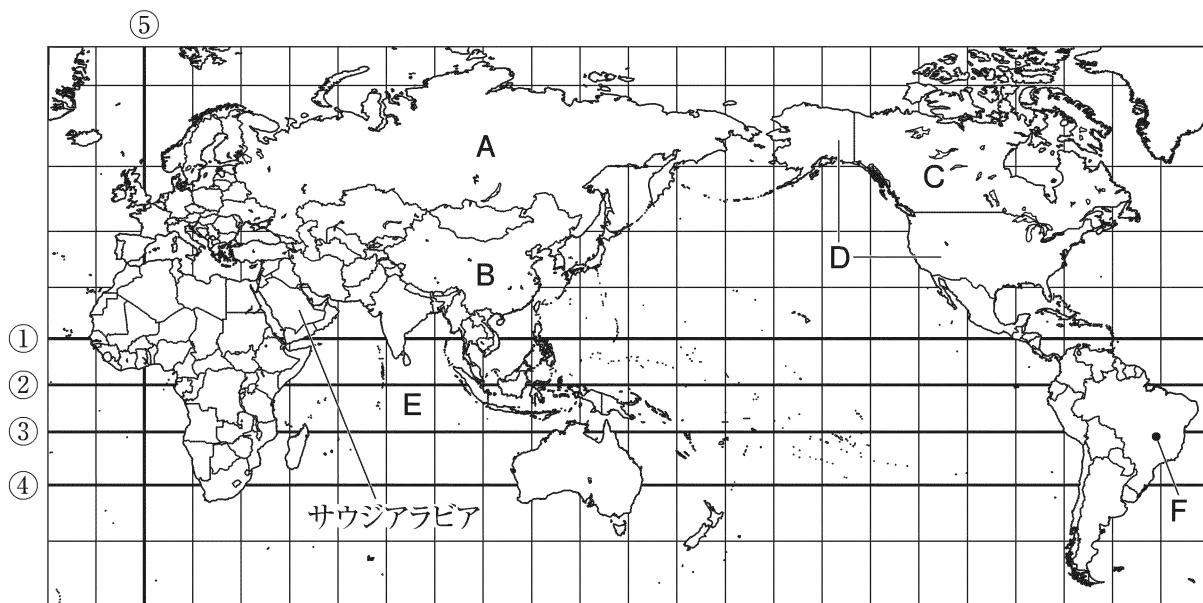
- (8) 波線部の奈良時代から明治時代までのいずれかの時代の説明である次のア～ウを、時代の古い順に並べかえなさい。

- ア モンゴル人の国である元の攻撃を受けた。
- イ 歌舞伎や浮世絵を特色とする文化が栄えた。
- ウ 織田信長が琵琶湖のそばに安土城を築いた。

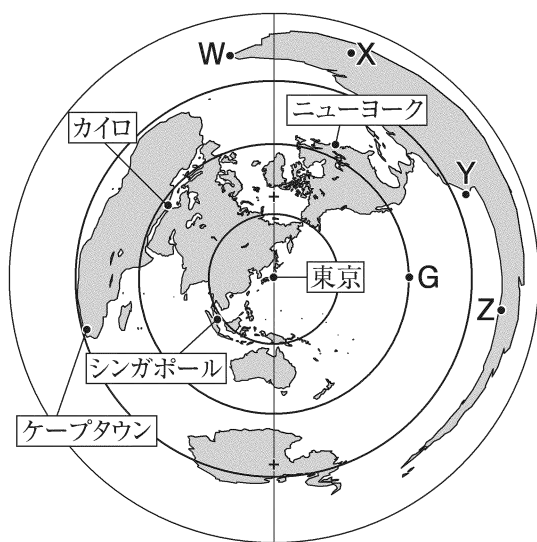
【選択問題】日本のすがたまで（タイプ01）

② 次の地図を見て、あとの問いに答えなさい。

地図1



地図2



(1) 次の4つの条件がすべてあてはまる国を、地図1中のA～Dから1つ選びなさい。

条件1：国土の東の端と西の端で時刻が異なる

条件2：国土面積は世界の国々の中で3位以内に含まれる

条件3：人口は世界の国々の中で5位以内に含まれない

条件4：首都は国土の西半分位置する

- (2) 地図1中のEの大洋を何というか、書きなさい。
- (3) 地図1中には、地球上の6つの大陸のうち5つの大陸がえがかれている。地図1中にえがかれていない大陸の名を書きなさい。
- (4) 地図1中の①～④の緯線いの中から、赤道にあたるものを1つ選びなさい。
- (5) 地図1中の⑤の経線について述べた次の文 a・b の正誤の組み合わせとして正しいものを、下のア～エから1つ選びなさい。
- a この経線は日付変更線ともよばれる。
b この経線は、イギリスやフランスを通っている。
- ア a 正 b 正 イ a 正 b 誤
ウ a 誤 b 正 エ a 誤 b 誤
- (6) 地図1中のサウジアラビアと日本の時差について述べた次の文章中の（ ）にあてはまる数字を書きなさい。

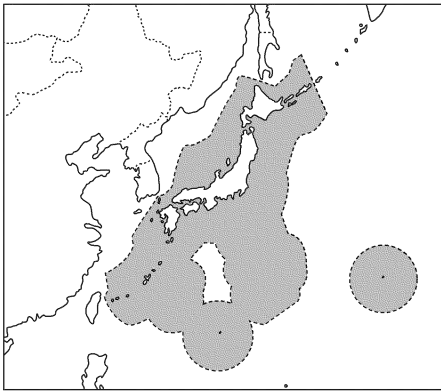
日本が6月10日午前8時のとき、サウジアラビアでは6月10日午前2時であり、その時差は6時間である。地球は1日に1回自転しているため経度15度ごとに1時間の時差が生じること、および日本は東経135度の経線を標準時子午線としていることをもとにして考えると、サウジアラビアの標準時子午線は東経（ ）度の経線であることがわかる。

※サマータイムを考慮する必要はない。

- (7) 地図1中のFの地点にあてはまるものを、地図2中のW～Zから1つ選びなさい。
- (8) 地図2中の都市を東京からの距離が近い順に正しく並べたものを、次のア～エから1つ選びなさい。
- ア シンガポール→ケープタウン→カイロ
イ シンガポール→カイロ→ケープタウン
ウ カイロ→ケープタウン→ニューヨーク
エ ニューヨーク→カイロ→ケープタウン
- (9) 地図2中のGの地点と東京のおよその距離きょりを、次のア～エから1つ選びなさい。なお、地球は1周が4万kmの完全な球形をしているものとする。
- ア 1万km イ 2万km ウ 3万km エ 4万km

③ 次の各問いに答えなさい。

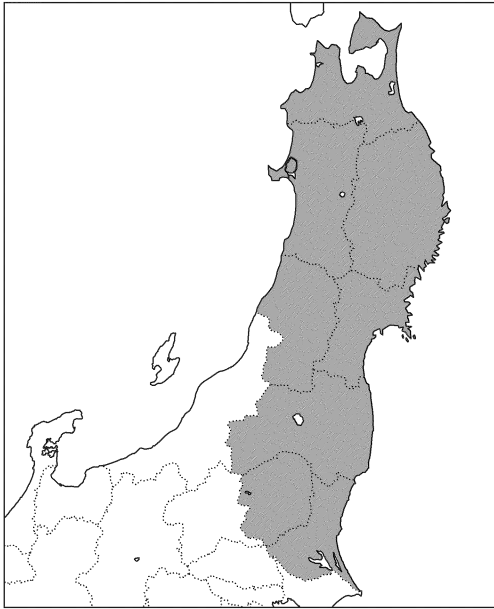
- (1) 国家の主権がおよぶ領域は、領土、領海、および（ あ ）から構成される。（ あ ）にあてはまる語句を書きなさい。
- (2) 北方領土に含まれないものを、次のア～エの中から1つ選びなさい。
ア 尖閣諸島^{せんかく} イ 択捉島^{えとろふ} ウ 国後島^{くなしり} エ 歯舞群島^{はばまい}
- (3) 日本の国土のうち、最も西に位置する島の名、および最も東に位置する島の名を書きなさい。
- (4) 次の地図中の■は、日本の領海と排他的経済水域^{はい}を合わせた範囲を示している。排他的経済水域について説明した下の文章中の（ い ）にあてはまる内容を、資源に着目して簡単に書きなさい。



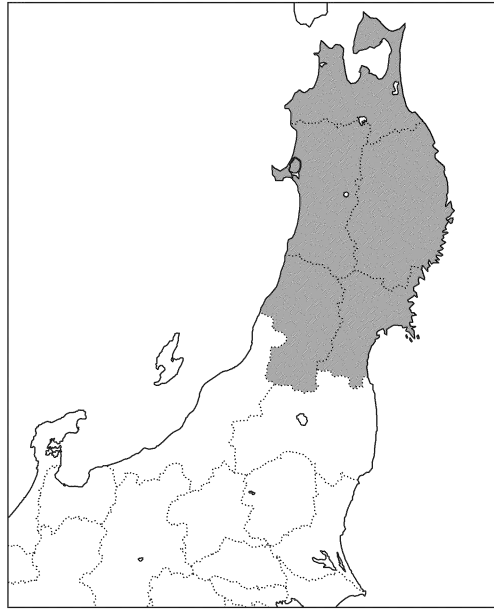
排他的経済水域は、海岸線から 200 海里（約 370km）までの海域に設定することができる。沿岸の国はこの水域内にある（ い ）ことができる。一方、船の航行や海底ケーブルの敷設^{ふせ}はどの国にも認められている。

(5) 日本を7つの地方に区分した場合の東北地方の範囲として正しいものを、次のア～エから1つ選びなさい。

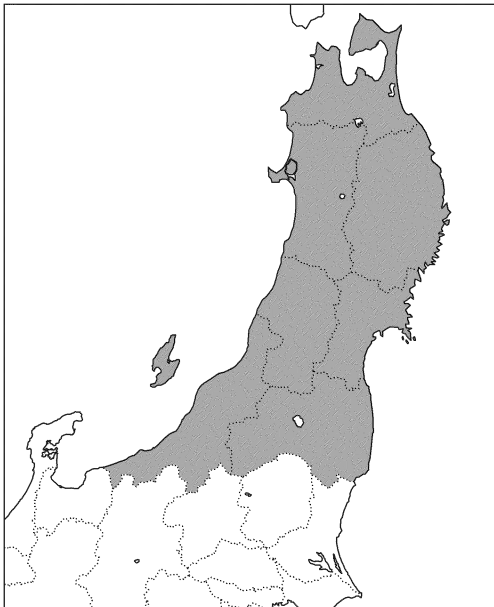
ア



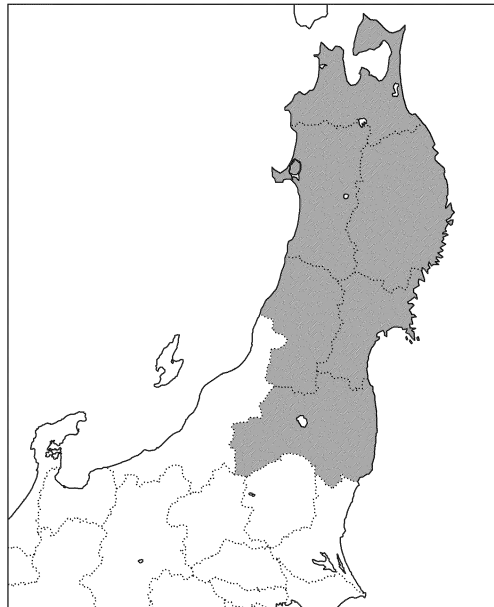
イ



ウ



エ



(6) 都道府県の名と都道府県庁が所在する市の名の組み合わせとして適当でないものを、次のア～エから1つ選びなさい。

- | | |
|-----------|-----------|
| ア 滋賀県－大津市 | イ 三重県－津市 |
| ウ 高知県－高知市 | エ 香川県－松山市 |

【選択問題】 古代文明と宗教のおこりまで (タイプ 02)

② 次の文を読んで、あとの問いに答えなさい。

世界で最古の人類は、今から 700 万年以上前に (a) に出現した猿人^{えんじん}であると考えられている。その後、地球は氷河時代に入り、氷河が広がる寒冷な時期と比較的温暖な時期を何回か繰り返す中で、b 人類は次第に進化していった。

今から 1 万年あまり前に氷河時代が終わると、人類の生活は比較的安定した。以後、農耕や牧畜が発展した地域では、相次いで c 文明が誕生した。

(1) 文章中の (a) にあてはまる語句を、次のア～エから 1 つ選びなさい。

ア 南アメリカ イ アジア ウ アフリカ エ ヨーロッパ

(2) 下線部 b について述べた次の文 X・Y の正誤の組み合わせとして正しいものを、下のア～エから 1 つ選びなさい。

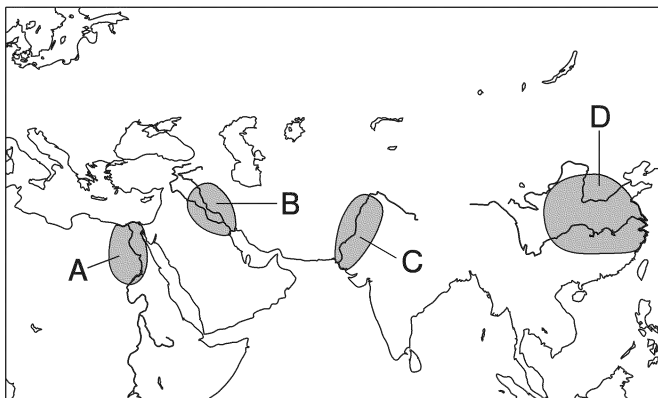
X 現在の人類にとっての直接の祖先と考えられる新人は、洞窟^{どうくつ}に動物などの壁画をえがいた。

Y 旧石器時代の人類は、磨製石器^{ませい}や土器を用いて生活していた。

ア X 正 Y 正 イ X 正 Y 誤

ウ X 誤 Y 正 エ X 誤 Y 誤

(3) 下線部 c に関連して、次の地図は紀元前に文明が成立した地域の一部を大まかに示したものである。この地図を見て、あとの問いに答えなさい。




- ① 地図中に示された4つの地域では、言語を記録する手段として文字が用いられた。次のあ・いの文字が発明された地域を、地図中のA～Dから1つずつ選びなさい。また、文字の名称をそれぞれ書きなさい。

あ



い



- ② 地図中のAの地域を南から北に向けて流れる大河の名を書きなさい。
- ③ 地図中のBの地域とCの地域で栄えた文明について述べた文を、次のア～ウから1つずつ選びなさい。
- ア チグリス川（ティグリス川）・ユーフラテス川の流域で栄えた。
- イ 道路や上下水道、大浴場などを備えた都市が、計画的に建設された。
- ウ ピラミッドとよばれる巨大な石造の建築物がつくられた。
- ④ 地図中のDの地域の歴史について説明した次の文章中の（ ）にあてはまる語句を書きなさい。

この地域では、存在が確認されている最古の王朝である殷^{いん}をはじめとして、数々の王朝が興亡した。殷を滅ぼして成立した周が弱体化した春秋・戦国時代は、多数の国々が争う戦乱の時代であったが、一方で、（ ）の農具の使用が広まったことや、治水・かんがい技術が発展したことを背景に、農業生産力が大きく向上した。

③ 次の各問いに答えなさい。

- (1) 仏教を開いた人物の名を書きなさい。
- (2) 古代のギリシャ・ローマについて述べた文として正しいものを、次のア～エから1つ選びなさい。
- ア 古代ギリシャの都市国家であるアテネは、地中海の沿岸地域を統一した。
- イ 古代ギリシャの都市国家であるアテネでは、民主政が行われた。
- ウ 古代ローマでは、ポリスとよばれる都市国家がいくつも成立した。
- エ 古代ローマでは、ハンムラビ法典が制定されるなど、法律の整備が進んだ。
- (3) 古代の中国について説明した次の文章を読んで、あとの問いに答えなさい。

いくつもの国が互いに争った春秋・戦国時代における強国の1つであった（ a ）は、**b紀元前 221年**に中国を統一した。統一後、（ a ）の王は皇帝と称するようになり（始皇帝）、中央集権化をはかってさまざまな改革を進めた。

- ① 文章中の（ a ）にあてはまる語句を書きなさい。
- ② 下線部**b**の紀元前 221 年は何世紀にあたるか、解答らんに合わせて数字で答えなさい。
- (4) 仏教は、中央アジアのオアシス都市などを經由してインドから中国に伝わった。これらのオアシス都市は、西方のローマと東方の中国とを結ぶ交通路の要地としてさまざまな人や商品が行き交い、長く栄えた。この交通路のよび名を書きなさい。
- (5) ローマ帝国は4世紀にキリスト教に対する政策を大きく変化させた。この変化について、簡単に説明しなさい。
- (6) イスラム教（イスラーム）について述べた次の文X・Yの正誤の組み合わせとして正しいものを、下のア～エから1つ選びなさい。
- X アッラーが唯一の神として信仰される。
- Y アラビア半島に生まれたムハンマドによって創始された。
- ア X 正 Y 正 イ X 正 Y 誤
- ウ X 誤 Y 正 エ X 誤 Y 誤