

令和7年度
第1回
公開実力テスト
中 2
社 会

〔世界と日本の産業までの地理 選択 …… タイプ01
安土・桃山時代までの歴史 選択 …… タイプ02〕

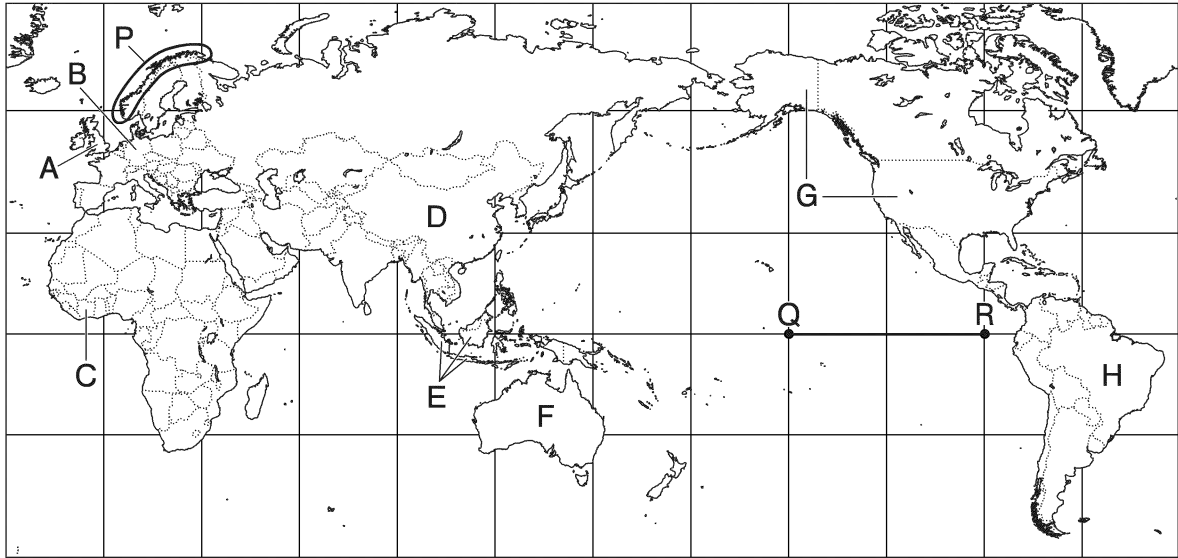
注 意

1. この用紙は、先生の合図があるまで、開いてはいけません。
2. 問題は7ページあります。どの問題から始めてもかまいません。
3. 時間は20分です。
4. 先生の指示に従って、解答用紙の氏名欄に氏名を記入しなさい。また、その横の欄に氏名シールを貼るか、ない場合は指定の番号を記入しなさい。
5. 答えは、別紙の解答用紙に、はっきりとていねいに書きなさい。
6. 「やめ」の合図があったら、筆記用具をすぐに置きなさい。



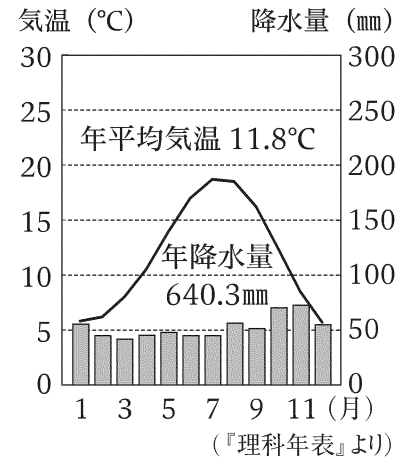
【共通問題】

① 次の地図を見て、あとの問いに答えなさい。



(1) 右の雨温図は、地図中のAの国の首都における月別の平均気温と平均降水量を示している。温帯に含まれるこの都市の気候を、次のア～ウから1つ選びなさい。

- ア 西岸海洋性気候
- イ 地中海性気候
- ウ 温暖湿潤気候



(2) 地図中のBの国で使用されているEUの共通通貨を何というか、書きなさい。

(3) 地図中のCの国についての説明として正しくないものを、次のア～エから1つ選びなさい。

- ア 欧米諸国の植民地支配から独立した国の1つである。
- イ ギニア湾に面している。
- ウ 日本は石油のほとんどをこの国から輸入している。
- エ カカオ豆の生産が盛んに行われている。

(4) 地図中のDの国について述べた次の文X・Yの正誤の組み合わせとして正しいものを、下のア～エから1つ選びなさい。

- X 大豆・とうもろこしの生産量は、いずれも世界第1位である。
- Y 経済が発展しており、現在では地域間の経済的な格差はほとんど解消されている。

- ア X 正 Y 正 イ X 正 Y 誤
- ウ X 誤 Y 正 エ X 誤 Y 誤

(5) 地図中のEの国は、ある宗教の信者数が世界で最も多い国である。その宗教は何か、書きなさい。

(6) 右の表は、地図中のFの国が国別産出量で世界第1位となっている鉱産資源について、日本の輸入相手国の上位3か国とその割合を示しており、F・Hは地図中に示した国と一致している(2021年)。表の鉱産資源を、次のア～エから1つ選びなさい。

- ア 石炭
- イ ボーキサイト
- ウ 鉄鉱石
- エ 原油

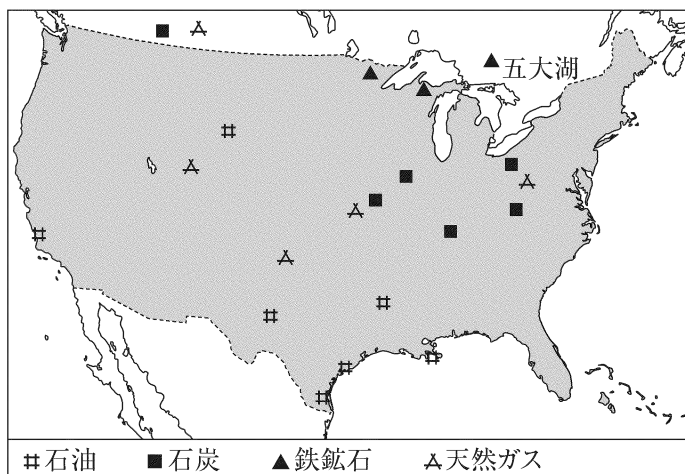
表

国名	割合
F	55.3%
H	28.3%
カナダ	7.0%

(財務省資料より)

(7) 次の資料は、地図中のGの国における鉱産資源の主な産出地を示している。資料から読み取れる内容をふまえて、五大湖の周辺で重工業が盛んに行われた理由を簡単に説明しなさい。

資料



(8) 地図中のHの国とその周辺を流れる、流域面積が世界最大である河川の名称を書きなさい。

(9) 地図中のPで示した地域で見られる、氷河の侵食でつくられた谷に海水が入り込んでできた地形を何というか、書きなさい。

(10) 地図中のQは赤道上の西経150度、Rは西経90度の地点を示している。Q—R間の実際の距離は何kmか。赤道上の地球1周の距離を4万kmとし、小数第1位を四捨五入して、単位をつけて整数で答えなさい。

② 次の年表を見て、あとの問いに答えなさい。

年 代	で き ご と
239 年	邪馬台国の女王（ a ）が魏に使いを送る
593 年	（ b ）が推古天皇の摂政となる
701 年	c <u>大宝律令</u> が制定される ……………
1185 年	源頼朝が e <u>守護・地頭</u> を設置する権利を朝廷に認めさせる ……
1338 年	足利尊氏が室町幕府を開く ……………
1392 年	g <u>足利義満</u> が南北朝を統一する
1449 年	h <u>足利義政</u> が征夷大將軍となる ……………
1573 年	室町幕府が滅亡する ……………

d

f

i

- (1) 年表中の（ a ）にあてはまる人名を書きなさい。
- (2) 年表中の（ b ）にあてはまる人名を書きなさい。
- (3) 年表中の下線部 c に関連して、古代の日本の律令国家について述べた次の文 X・Y の正誤の組み合わせとして正しいものを、下のア～エから 1 つ選びなさい。
 X 租は地方の特産物を納める税であった。
 Y 国司の下に郡司が置かれ、郡司には地方の豪族が任命された。
 ア X 正 Y 正 イ X 正 Y 誤
 ウ X 誤 Y 正 エ X 誤 Y 誤
- (4) 年表中の d の期間に関連して、あとの問いに答えなさい。
- ① 年表中の d の期間に起こった次のア～エのできごとを年代の古い順に並べかえ、記号で答えなさい。
 ア 都が平安京にうつる。
 イ 墾田永年私財法が出される。
 ウ 白河天皇が上皇となって院政を始める。
 エ 藤原道長が摂政になる。
- ② 年表中の d の期間に紀貫之らが編集した和歌集を、次のア～エから 1 つ選びなさい。
 ア 『古今和歌集』 イ 『新古今和歌集』 ウ 『徒然草』 エ 『方丈記』

- (5) 年表中の下線部 e について説明した次の文中の〔 〕にあてはまる内容を簡単に書きなさい。

守護は国ごとに置かれて、国内の〔 〕という2つの役割をにない、地頭は荘園や公領ごとに置かれて、土地の管理や年貢の徴収を行った。

- (6) 年表中の f の期間に起こったできごとについての説明として正しくないものを、次のア～エから1つ選び、記号で答えなさい。

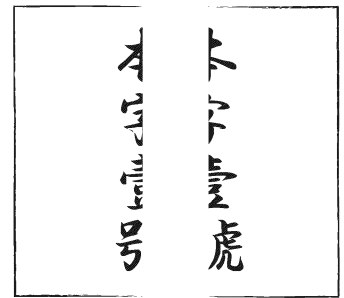
ア 征夷大將軍となった源頼朝が定めた御成敗式目は、長く武家法の手本とされた。

イ 運慶らによって東大寺南大門の金剛力士像こんごうりきしがつくられた。

ウ 承久の乱に勝利した幕府は、乱の後、京都に六波羅探題を設置した。

エ 元寇の後、幕府は窮乏きゅうぼうする御家人を救済するため、永仁の徳政令を発した。

- (7) 年表中の下線部 g に関連して、右の図は、足利義満が中国と盛んに行った貿易で使用された合い札である。このような札を何と
いうか、書きなさい。



- (8) 下線部 h の「足利義政」の時代を中心に東山文化が栄えた。このころに活躍し、水墨画を大成した人物の名を書きなさい。

- (9) 年表中の i の期間に起こったできごとを、次のア～エから1つ選びなさい。

ア 関ヶ原の戦い イ 応仁の乱 ウ 壬申の乱 エ 白村江の戦い

【選択問題】日本の地理（タイプ01）

③ 次の各問いに答えなさい。

(1) 日本における自然災害について述べた次の資料を読み、あとの問いに答えなさい。

資料

日本は地震が多く火山活動が活発で、気候や地形の特性から大雨・豪雪・洪水の被害を受けやすい。

地震については、2011年のa東日本大震災や、2024年の能登半島地震の記憶が新しい。また、噴火による被害も少なくない。2000年に起こったb北海道の有珠山での噴火では多くの人が避難を余儀なくされた。気象現象による災害に目を向けると、日本では夏に台風などによる洪水被害が発生しやすい。

① 資料中の下線部aに関連して、東日本大震災の際に東京湾岸の埋立地など地盤が強固でない地域で見られた、震動によって地面から砂や水が吹き出す現象を何というか、書きなさい。

② 資料中の下線部bに関連して、次の表は「北海道」で栽培が盛んなある穀物について、収穫量上位5位までの都道府県とその収穫量を示している。この穀物は何か、書きなさい。

表

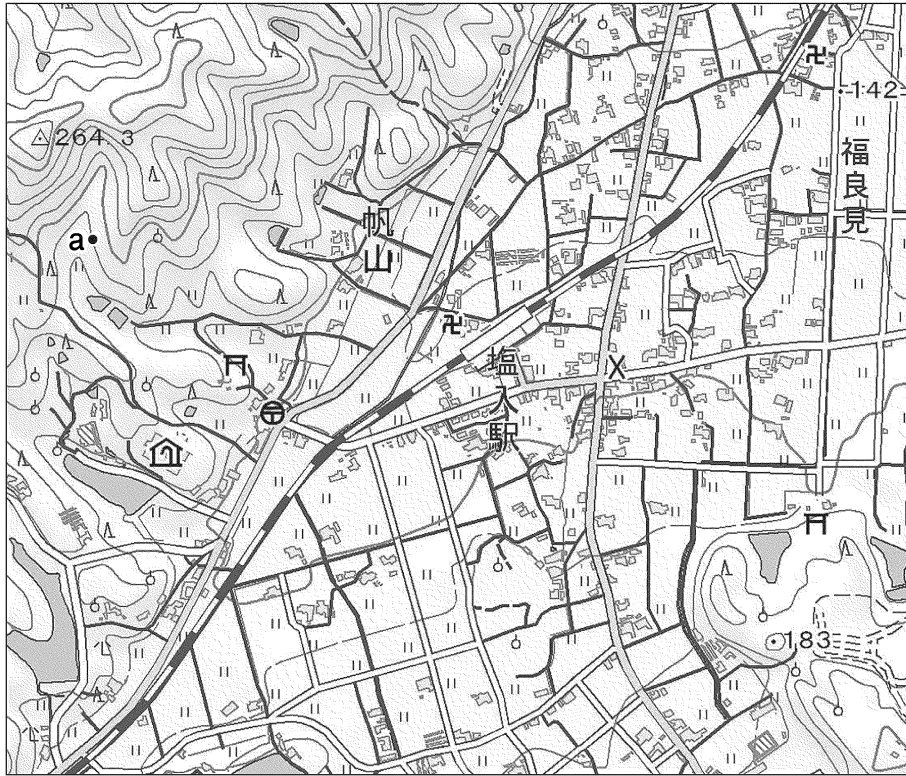
順位	都道府県	収穫量（単位：t）
1	新潟県	591700
2	北海道	540200
3	秋田県	458200
4	山形県	359300
5	宮城県	344700

（2023年；農林水産省資料より）

③ 資料中の波線部について述べた次の文中の〔 〕にあてはまる内容を簡単に書きなさい。

日本の河川が夏に多く氾濫^{はんらん}するのは、世界の大河川に比べて日本の河川には〔 〕という特徴があり、台風などによって大量の雨水が河川に流れ込むと急激に水位が上昇するためと考えられる。

(2) 次の地形図を見て、あとの問いに答えなさい。



(国土地理院発行 2万5千分の1の電子地形図を加工して作成)

① この地形図についての説明として正しくないものを、次のア～ウから1つ選びなさい。

- ア 「塩入駅」の東側には交番がある。
- イ 山の斜面だけでなく平地にも果樹園が見られる。
- ウ 田よりも畑が多く見られる。

② aの地点の標高はおよそ何mか。単位をつけて答えなさい。

【選択問題】安土・桃山時代の歴史（タイプ 02）

③ 次の各問いに答えなさい。

- (1) 織田信長が商工業を発展させるために行った楽市・楽座について、簡単に説明しなさい。
- (2) 次のカードを見て、あとの問いに答えなさい。

カード

諸国の百姓が、刀やわきざし、弓、^{やり}槍、鉄砲、その他の武器をもつことを固く禁止する。不要な道具をたくわえ、年貢や雑税を納めず、一揆を企て、その土地の領主に対し、無礼なことをするものはもちろん罰する。
(一部を現代語で要約)

- ① カードで示された政策を何というか、書きなさい。
- ② カードで示された政策を実施した人物の名を書きなさい。
- ③ カード中の波線部に関連して、鉄砲が伝えられた結果について述べた次の文 X・Y の正誤の組み合わせとして正しいものを、下のア～エから 1 つ選びなさい。
X ^{さかい}堺や国友の刀鍛冶職人によって鉄砲がつけられるようになった。
Y 戦法が大きく変化し、長篠の戦いでは織田信長によって鉄砲が活用された。
- | | | | | | | | | | |
|---|---|---|---|---|---|---|---|---|---|
| ア | X | 正 | Y | 正 | イ | X | 正 | Y | 誤 |
| ウ | X | 誤 | Y | 正 | エ | X | 誤 | Y | 誤 |
- ④ カードの法令が出された 16 世紀には、ヨーロッパ人による新航路の開拓と海外への進出が進んだ。アフリカ大陸南端部の喜望峰をまわってインドに到達した人物の名を書きなさい。