

令和7年度
公開実力テスト

中 3

社 会

(タイプ01)

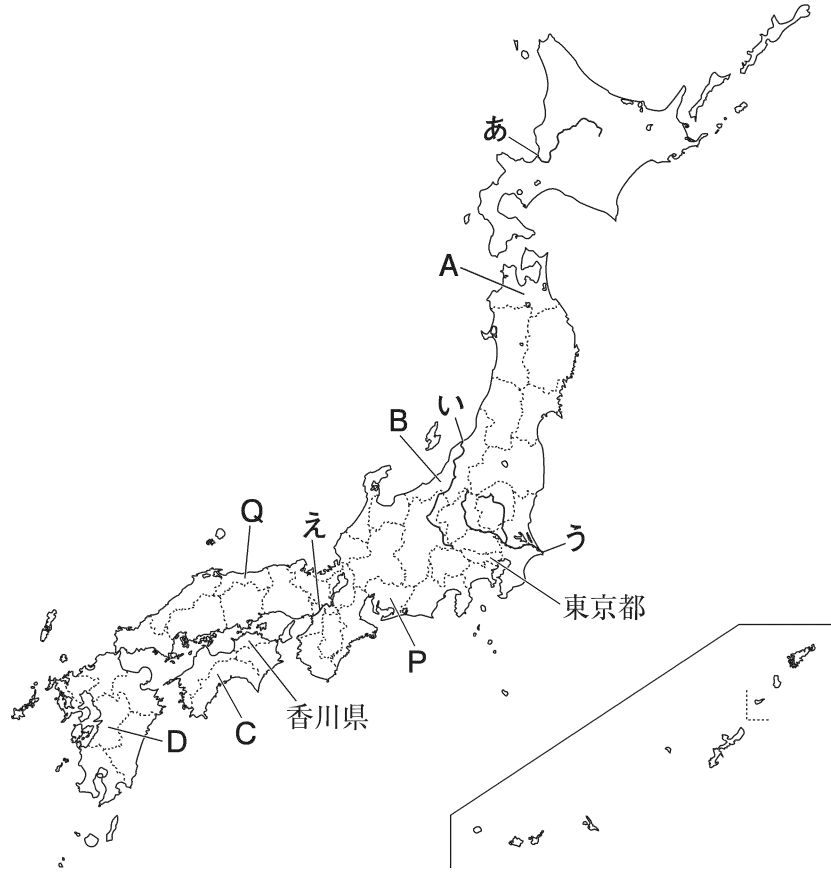
注 意

1. この用紙は、先生の合図があるまで、開いてはいけません。
2. 問題は8ページあります。どの問題から始めてもかまいません。
3. 時間は20分です。
4. 先生の指示に従って、解答用紙の氏名欄に氏名を記入しなさい。また、その横の欄に氏名シールを貼るか、ない場合は指定の番号を記入しなさい。
5. 答えは、別紙の解答用紙に、はっきりとていねいに書きなさい。
6. 「やめ」の合図があったら、筆記用具をすぐに置きなさい。

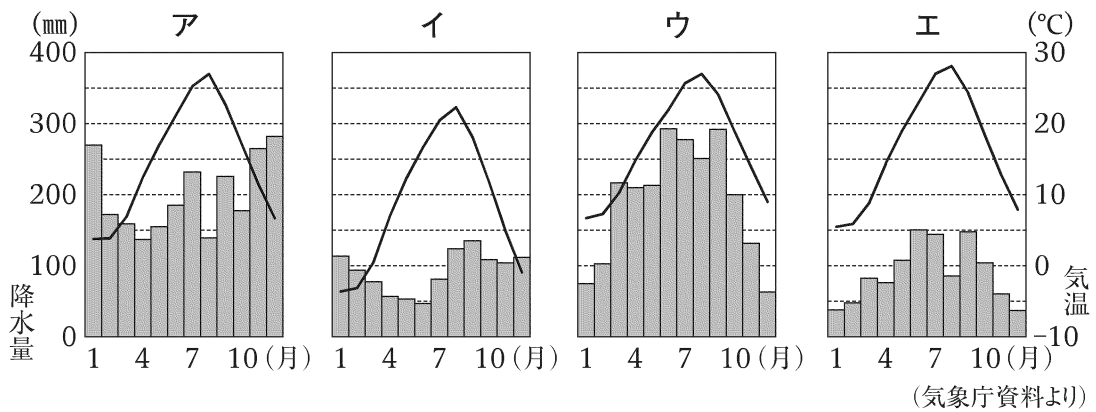
 Z-KAI ×  秀英予備校

問題作成：Z 会
秀 英 予 備 校
© (禁複製)

1 次の地図を見て、あとの問いに答えなさい。



(1) 香川県の県庁所在地における月別の平均気温と平均降水量を示したグラフを、次のア～エから1つ選びなさい。



(2) 次の文章は、地図中のあ～えのいずれかの河川について述べたものである。この河川にあてはまるものを、地図中のあ～えから1つ選びなさい。

この河川は、坂東太郎ともよばれており、日本で最も流域面積が広い河川である。また、この河川の流域には日本で最も広い平野が広がっている。

(3) 地図中のA～Dの県の農業について述べた文として正しいものを、次のア～エから1つ選びなさい。

ア Aの県は果樹栽培が盛んで、ぶどうやももの都道府県別生産量が全国第1位である。

イ Bの県は稲作が盛んで、米の生産量が全国有数である。

ウ Cの県は、温暖な気候を利用してはくさいやレタスなどの促成栽培が盛んである。

エ Dの県は、1年中温暖な気候を利用した農業が盛んで、パイナップルやさとうきびの都道府県別生産量が全国第1位である。

(4) 地図中のPの県に関連して、あとの問いに答えなさい。

① Pの県について述べた次の文中の()にあてはまる語句を書きなさい。

() 工業地帯の中心であるPの県は、輸送用機械の生産が非常に盛んで、製造品出荷額が全国第1位となっている。

② Pの県には、日本有数の貿易港がある。日本の貿易に関連して、次の表は、日本の石炭・原油・鉄鉱石のいずれかの輸入相手国上位5か国とその割合(2022年)を示している。石炭にあてはまるものを、ア～ウから1つ選びなさい。

ア

国名	割合 (%)
サウジアラビア	39.4
アラブ首長国連邦	37.6
クウェート	8.2
カタール	7.3
エクアドル	1.8

イ

国名	割合 (%)
オーストラリア	66.4
インドネシア	14.1
カナダ	6.3
アメリカ合衆国	5.8
ロシア	5.3

ウ

国名	割合 (%)
オーストラリア	60.2
ブラジル	28.0
カナダ	5.9
南アフリカ共和国	2.9
アメリカ合衆国	1.0

(財務省資料より)

- ③ 右の表は、Pの県で生産が盛んなある農産物について、生産量が上位の3都道府県（2023年）を示している。この農産物は何か、次のア～エから1つ選びなさい。

都道府県	生産量（t）
群馬県	282900
P	272700
千葉県	116000

（農林水産省資料より）

ア たまねぎ イ キャベツ ウ ジャがいも エ 茶

- (5) 地図中のQの県は、日本で最も人口が少ない都道府県である。このことに関連して、あとの問いに答えなさい。

- ① Qの県の県庁所在地の都市名を漢字で書きなさい。
- ② 近年の日本の人口についての説明として正しいものを、次のア～エから1つ選びなさい。
- ア 日本の人口は減少傾向にあり、1億人を下回っている。
- イ 65歳以上の高齢者が、総人口の1割程度を占めている。
- ウ 東京・大阪・福岡を中心とする三大都市圏に人口が集中している。
- エ 過疎化が進み、社会生活の維持が困難になっている地域が見られる。

- (6) 東京都に関連して、あとの問いに答えなさい。

- ① 東京都の中心部において見られるヒートアイランド現象とは、どのような現象であるか、簡単に書きなさい。
- ② 東京都は、日本の中でもとくに第三次産業が盛んである。このことに関連して述べた次の文X・Yの正誤の組み合わせとして正しいものを、下のア～エから1つ選びなさい。
- X 第一次産業には農林水産業などが、第二次産業には商業・サービス業などが分類される。
- Y 日本において、産業別の人口が最も多いのは第三次産業であり、最も少ないのは第一次産業である。

ア X 正 Y 正 イ X 正 Y 誤
 ウ X 誤 Y 正 エ X 誤 Y 誤

② 「日本の貨幣の歴史」について調べて作成した次の年表を見て、あとの問いに答えなさい。

時 代	で き ご と
飛鳥時代	a <u>富本銭</u> が <u>つくられる</u>
奈良時代	b <u>和同開珎</u> が <u>平城京</u> で <u>流通する</u> ……………
平安時代末期～室町時代	中国から輸入した c <u>宋銭</u> や d <u>明銭</u> が <u>流通する</u> ……………
安土桃山時代	豊臣秀吉が e <u>主要な金山や銀山</u> を <u>支配し</u> 、 <u>金貨</u> を <u>発行する</u>
江戸時代初期	f <u>江戸幕府</u> が <u>貨幣</u> の <u>発行権</u> を <u>独占する</u>
江戸時代末期	g <u>日本</u> が <u>開国し</u> 、 <u>貿易</u> が <u>始まり</u> <u>金貨</u> が <u>大量</u> に <u>流出する</u>



(1) 下線部 a は 7 世紀後半につくられたと考えられている。7 世紀後半のできごとについて述べた次の文章中の () にあてはまる語句を書きなさい。

天智天皇の死後、天皇の子の大友皇子と天皇の弟の大海人皇子が皇位をめぐって争う壬申の乱となった。この争いに勝利した大海人皇子は () 天皇となり、天皇を中心とする国づくりを進めた。

(2) 下線部 b のころ、成年の男子には、律令制度の下で、労役の代わりとして布を納める税が課されていた。この税の名称を書きなさい。

(3) 年表中の A の期間に起こったできごとについて述べた次の文ア～エを、年代の古い順に並べかえ、記号で答えなさい。

- ア 桓武天皇により坂上田村麻呂が征夷大將軍に任命された。
- イ 藤原道長が摂政となった。
- ウ 菅原道真の提案により遣唐使が停止された。
- エ 墾田永年私財法が出された。

(4) 下線部 c に関連して、宋銭は平清盛が積極的に行った日宋貿易で大量にもたらされた。平清盛についての説明として正しくないものを、次のア～エから 1 つ選びなさい。

- ア 承久の乱で源義朝を破った。
- イ 武士として初めて太政大臣となった。
- ウ 娘を天皇のきさきとし、その娘の子を天皇に立てた。
- エ 現在の広島県にある厳島神社を信仰した。

(5) 下線部 **d** に関連して、あとの問いに答えなさい。

① 倭寇の取り締まりを求める明に应じ、明との間で正式な貿易を始めた人物の名を書きなさい。

② 明が中国を治めていた 14 世紀後半から 17 世紀前半までの時期のヨーロッパに関わるできごととして正しくないものを、次の **ア**～**エ** から 1 つ選びなさい。

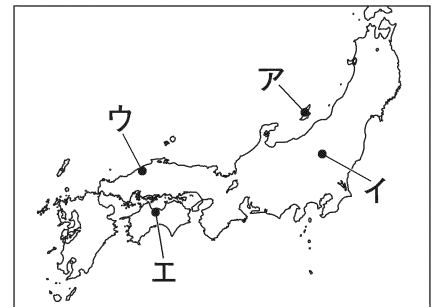
ア ルターが宗教改革を始めた。

イ コロンブスがアメリカ大陸付近の島に到達した。

ウ フランスでフランス革命が始まった。

エ フランシスコ＝ザビエルが布教のため日本へ渡った。

(6) 下線部 **e** について、豊臣秀吉が直轄し、江戸時代には幕府の直轄領となった佐渡金山^{さつと}の位置を、右の地図中の **ア**～**エ** から 1 つ選びなさい。



(7) 下線部 f に関連して、あとの問いに答えなさい。

- ① 江戸幕府が定めた、幕府の許可なく城を修理したり大名どうして婚姻関係を結んだりすることなどを禁止した法律の名称を書きなさい。
- ② 江戸幕府 5 代将軍の徳川綱吉のころにえがかれた作品を、次のア～エから 1 つ選びなさい。

ア

葛飾北斎 富嶽三十六景 神奈川沖浪裏

イ

歌川広重 名所江戸百景 大はしあたりの夕立

ウ

菱川師宣 見返り美人図

エ

喜多川歌麿 婦女人相十品 ポッピンを吹く女

(8) 下線部 g に関連して、次の表は、貿易開始当初の日本と欧米諸国それぞれの金銀の交換比率を示している。貿易によって日本国内から金貨が大量に流出した理由を簡単に書きなさい。

	金：銀
日本	1：5
欧米諸国	1：15

③ 「明治時代～大正時代に活躍した女性」について調べて作成した次のカードA～Dを読んで、あとの問いに答えなさい。

カードA

a 明治政府が欧米諸国に派遣したb 岩倉使節団に、留学生として同行した津田梅子は、帰国後、日本の女子教育に力を注ぎ、女子英学塾を設立した。

カードB

ロマン主義の文学が盛んになったc 明治時代に、d 樋口一葉は、「たけくらべ」「にごりえ」など、情緒豊かな作品を著した。

カードC

明治時代末期、(e)は女性のための雑誌である「青鞥」を発刊した。f 大正時代には市川房枝らと新婦人協会を結成し、女性のg 政治参加を求めた。

カードD

歌人の与謝野晶子は、h 日露戦争に際し、出征した弟を思う「君死にたまふことなかれ」という詩を発表し、i 戦争に反対した。

(1) カードAについて、あとの問いに答えなさい。

- ① 下線部aが進めた殖産興業政策の一環として現在の群馬県につくられ、主に生糸の生産を行った官営模範工場を何というか。その名称を書きなさい。
- ② 下線部bが派遣された大きな目的は、日本の近代化のため欧米諸国の政治・産業・文化を視察すること以外に、外交上の課題を解決することにもあった。それは、どのような課題であったか、簡単に書きなさい。
- ③ 下線部bに参加した大久保利通らと対立し、明治政府を去った西郷隆盛が、1877年に鹿児島県で起こした士族の反乱の名称を書きなさい。

(2) カードBについて、あとの問いに答えなさい。

- ① 下線部cの時代には、欧米諸国の文化が盛んに取り入れられ、都市を中心に人々の生活に変化が起こった。こうした変化や社会の風潮を何というか書きなさい。
- ② 下線部dの人物が生まれた1872年は、学制が制定された年であった。学制に関連して述べた次の文X・Yの正誤の組み合わせとして正しいものを、下のア～エから1つ選びなさい。
X 満6歳以上の男女すべてに教育を受けさせることが義務付けられた。
Y 授業料はすべて国が負担した。
ア X 正 Y 正 イ X 正 Y 誤
ウ X 誤 Y 正 エ X 誤 Y 誤

(3) カードCについて、あとの問いに答えなさい。

① (e) にあてはまる人物の名を書きなさい。

② 下線部 f の時代のできごとについて述べた文として正しくないものを、次のア～エから1つ選びなさい。

ア 国際連盟が結成され、新渡戸稲造が事務局次長として活躍した。

イ 日本が中国に二十一か条の要求を提出し、認めさせた。

ウ 日本が韓国を併合し、朝鮮半島を植民地とした。

エ 軍備縮小をめざすワシントン会議が開かれ、日本もこれに参加した。

③ 下線部 g に関連して、明治時代から大正時代にかけての選挙権の変遷について述べた次の文章中の (I)・(II) にあてはまる内容の組み合わせとして正しいものを、下のア～エから1つ選びなさい。

明治時代の1890年に初めて行われた衆議院議員の総選挙で、選挙権が与えられたのは (I) に限られており、有権者は総人口のうち約1.1%に過ぎなかった。大正時代になると普通選挙を求める動きが盛り上がり、1925年には普通選挙法が成立した。これにより、1928年の衆議院議員の総選挙では (II) に選挙権が与えられた。しかし、女性には選挙権が与えられないままであった。

ア I 地価の3%を地租として納める満25歳以上の男子

II 満25歳以上の男子

イ I 地価の3%を地租として納める満20歳以上の男子

II 満20歳以上の男子

ウ I 直接国税を15円以上納める満25歳以上の男子

II 満25歳以上の男子

エ I 直接国税を15円以上納める満20歳以上の男子

II 満20歳以上の男子

(4) カードDについて、あとの問いに答えなさい。

① 下線部 h に関連して、日清戦争から日露戦争前後にかけての時期に起こったできごとについて述べた次の文ア～エを、年代の古い順に並べかえ、記号で答えなさい。

ア 日英同盟が結ばれた。 イ 日比谷焼き打ち事件が起こった。

ウ 義和団事件が起こった。 エ 下関条約が結ばれた。

② 下線部 i に関連して、日露戦争の開戦に反対したキリスト教徒を、次のア～ウから1人選びなさい。

ア 与謝野晶子 イ 内村鑑三 ウ 幸徳秋水