

令和6年度
第1回
公開実力テスト
小6
社会

(タイプ01)

注意

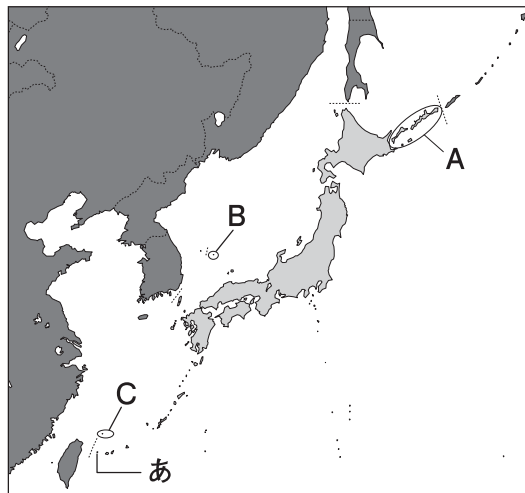
1. この用紙は、先生の合図があるまで、開いてはいけません。
2. 問題は9ページあります。どの問題から始めてもかまいません。
3. 時間は20分です。
4. 先生の指示に従って、解答用紙の氏名欄に氏名を記入しなさい。また、その横の欄に氏名シールを貼るか、ない場合は指定の番号を記入しなさい。
5. 答えは、別紙の解答用紙に、はっきりとていねいに書きなさい。
6. 「やめ」の合図があったら、筆記用具をすぐに置きなさい。



問題作成：Z 会
秀英予備校
© (禁複製)

1 日本の国土と人々の暮らしについて、あとの問いに答えなさい。

(1) 日本の領土についての次の地図を見て、①、②の問いに答えなさい。



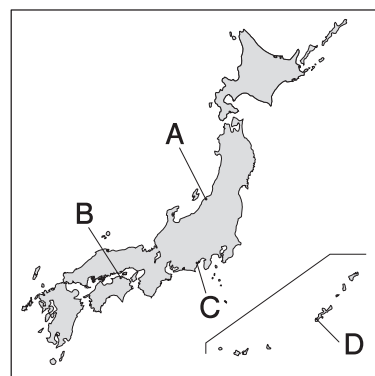
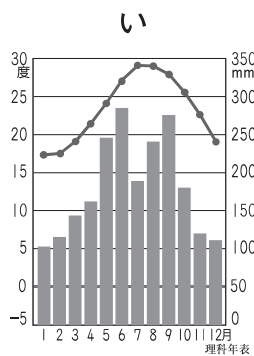
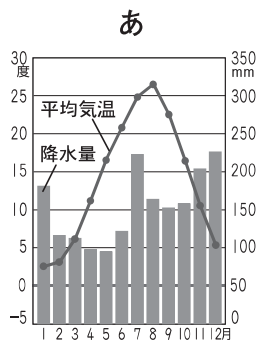
① 次の説明にあてはまる領土を、地図中のA～Cから1つ選び、記号で答えなさい。

ちゅうかじんみんきょうわこく
中華人民共和国（中国）が、自国の領土であると主張しているが、日本が有効に統治しており、領土問題は存在しない。

② 地図中のあは、日本の西のはしの地点がある島をさしています。その島の名前を、次のア～エから1つ選び、記号で答えなさい。

- ア おきのとりしま 沖ノ鳥島 イ みなみとりしま 南鳥島 ウ えとろふとう 択捉島 エ よなくにじま 与那国島

(2) 次の月別の平均気温、降水量のグラフあ、い、および日本地図を見て、下の文章中の（①）～（③）にあてはまる語句や記号を書きなさい。なお、②、③には、地図中のA～Dのいずれかの記号があてはまります。



- あは、12月、1月の降水量が多いので、冬に北西の方角からふく（①）のえいきょうで降水量が多くなる、日本海側の地点のものだとわかる。したがって、地図中の（②）のグラフである。
- いは、冬の平均気温が15℃をこえており、おんだん温暖な地域ちいきのものとなるので、地図中の（③）のグラフである。

(3) 北海道と沖縄県での人々の暮らしについて説明した文としてまちがっているものを、次のア～エから1つ選び、記号で答えなさい。

ア 北海道の家では、寒さや雪にそなえて、窓や玄関を二重にしたり、断熱材を厚くしたりするくふうが行われている。

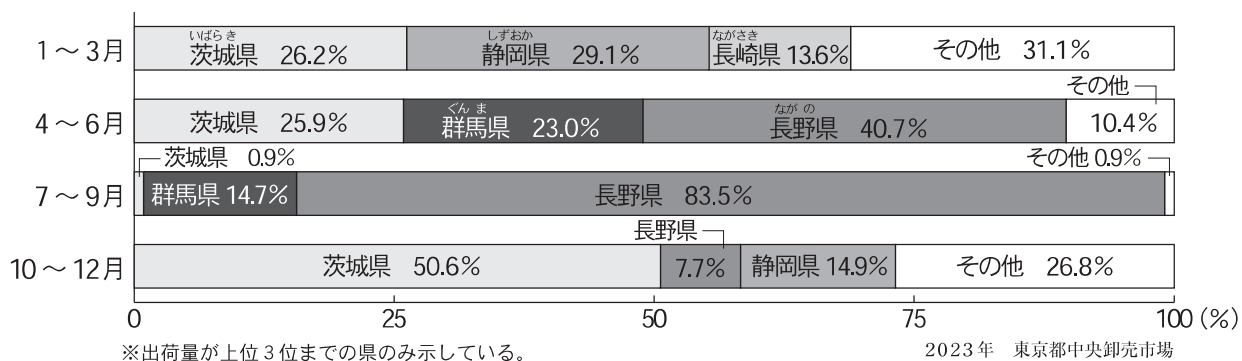
イ 北海道では、広大な土地を利用した野菜のさいばいや酪農がさかんである。

ウ 沖縄県の伝統的な家では、暑さをしのぐため戸や窓を大きくしたり、強い風を防ぐための木を家の周りに植えたりしている。

エ 沖縄県では、降水量が多いため、昔から飲料水や農業用水に困ることがほとんどなかった。

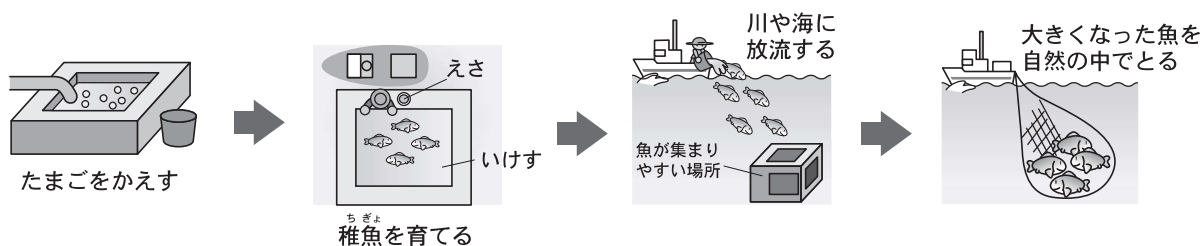
2 日本の食料生産について、あとの問いに答えなさい。

- (1) 次のグラフは、東京に出荷されるレタスの産地（県）別割合を示しています。これを見て、①、②の問いに答えなさい。



- ① 1～3月に出荷量が最大の県の名前を答えなさい。
- ② 7～9月に群馬県、長野県産のレタスが特に多い理由を、「高原」、「すずしい」という2つの語句を使って、簡単に書きなさい。

- (2) 次の図のように、人の手で稚魚になるまで育てて、川や海に放流して、大きくなってからとる漁業のことを何というか、書きなさい。



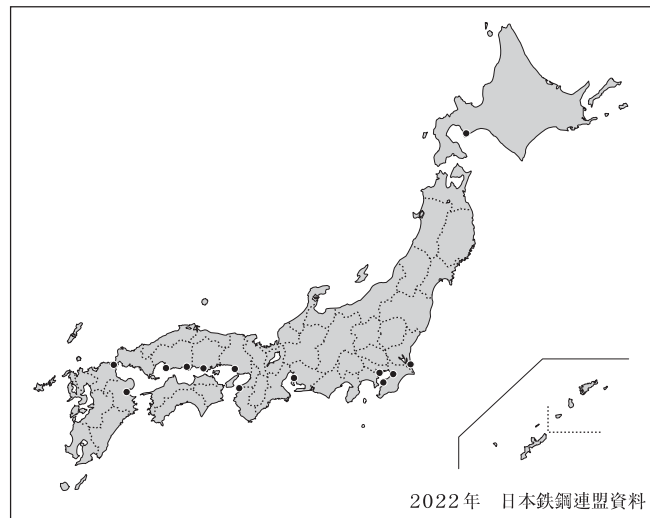
- (3) 秀太さんと英子さんは、日本では食料の輸入が多いことを知り、そのよい点とよくない点を表にまとめました。これを見て、表中の(①)、(②)にあてはまる語句を書きなさい。

食料の輸入が多いことのよい点とよくない点

よい点	よくない点
<ul style="list-style-type: none"> • 店で、値段が (①) 食料品を買うことができる。 • 日本で生産されていない種類の食料が流通している。 	<ul style="list-style-type: none"> • 日本で生産される食料が売れなくなり、日本で農業の仕事に就く人の数が (②) している。 • 輸入相手の国の経済・社会状況により、食料が輸入できなくなる心配がある。

3 日本の工業と貿易について、あとの問いに答えなさい。

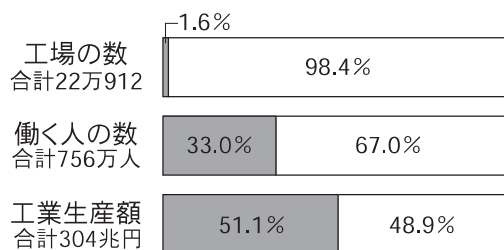
- (1) 次の地図は、日本の主な製鉄所の分布を示しています。これについて説明した下の文章中の(①)、(②)にあてはまる語句を書きなさい。



製鉄所は、(①)に面した場所に建てられている。その理由は、鉄をつくる原料である(②)や石炭を輸入しやすく、製品を運び出しやすいためである。

- (2) 次の大工場と中小工場に関する資料1、2について説明した文として正しいものを、下のア～エから1つ選び、記号で答えなさい。なお、働いている人が300人以上の工場が大工場、300人未満の工場が中小工場です。

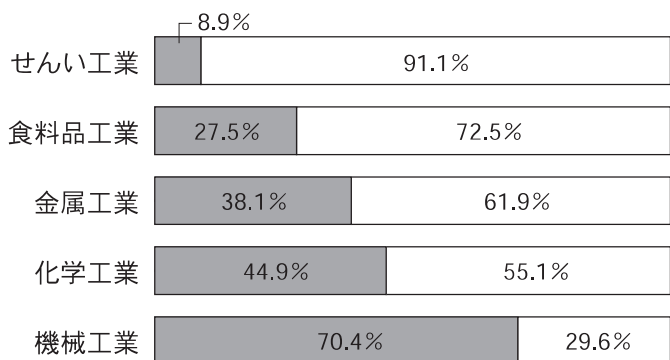
資料1 大工場と中小工場の規模の比較



2020年 経済産業省資料

■ 大工場 □ 中小工場

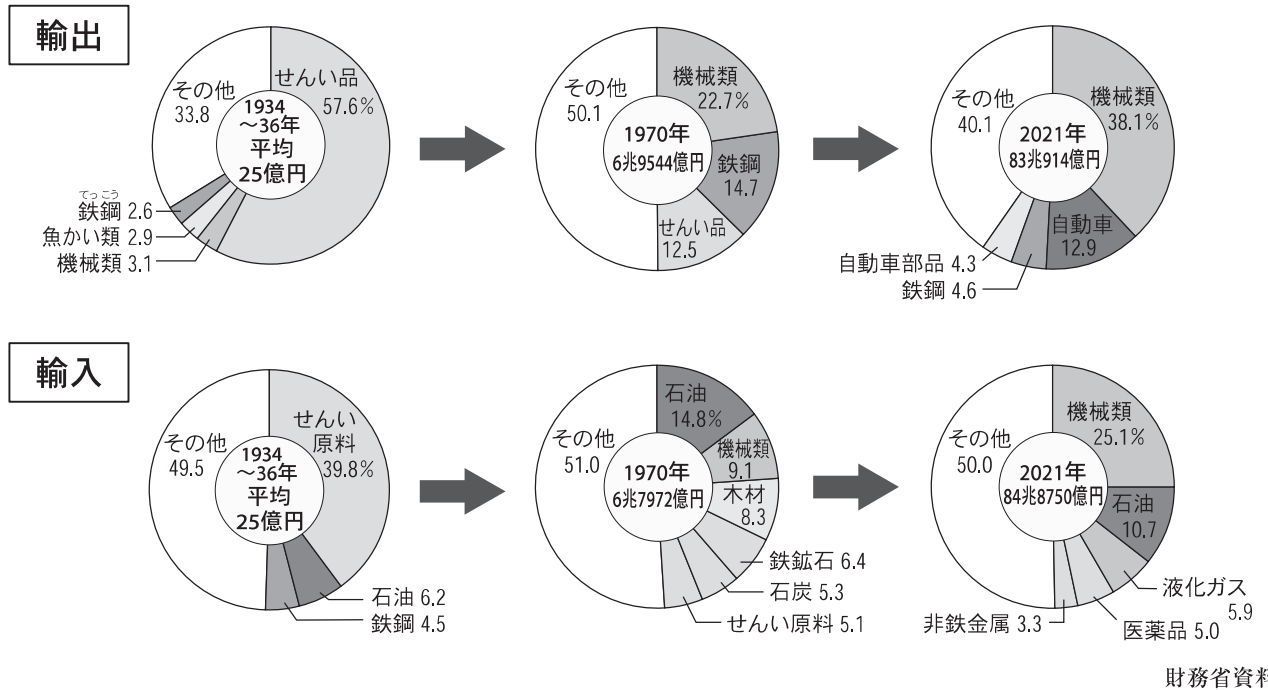
資料2 大工場と中小工場の種類別生産額の割合



2020年 経済産業省資料

- ア 中小工場のほうが、大工場よりも、工場が多く、工業生産額も大きい。
 イ 大工場のほうが、中小工場よりも、働く人1人あたりの工業生産額が大きい。
 ウ せんい工業や食料品工業で、中小工場の生産額の割合がとりわけ小さい。
 エ 資料2に挙げた工業の種類の中で、大工場の生産額の割合が最も大きいのは化学工業である。

(3) 次のグラフは、日本の1934～36年（平均）、1970年、2021年の輸出額と輸入額の品目別割合を示しています。これについて述べた文として正しいものを、下のア～エから1つ選び、記号で答えなさい。



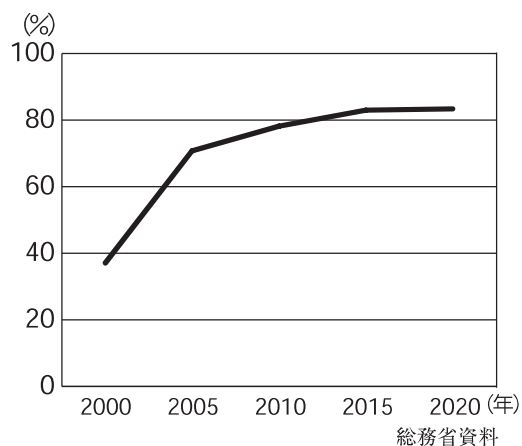
- ア 1934～36年は、せんい品を輸入して、せんい原料を輸出する貿易が中心だった。
- イ 1970年は、エネルギー資源や原料を輸入し、工業製品を輸出する貿易が中心だった。
- ウ 1970年から2021年にかけて、輸出、輸入ともに機械類の割合が減っている。
- エ 2021年は、輸出、輸入ともに機械類が最も多く、合計の金額は輸出のほうが輸入より多い。

4 情報化社会、かんきょうとくらしについて、あとの問いに答えなさい。

(1) 秀太さん、英子さんと先生が、情報化社会に関する資料を見て、会話をしています。会話文中の下線部ア～エのうち、正しいものを2つ選び、記号で答えなさい。

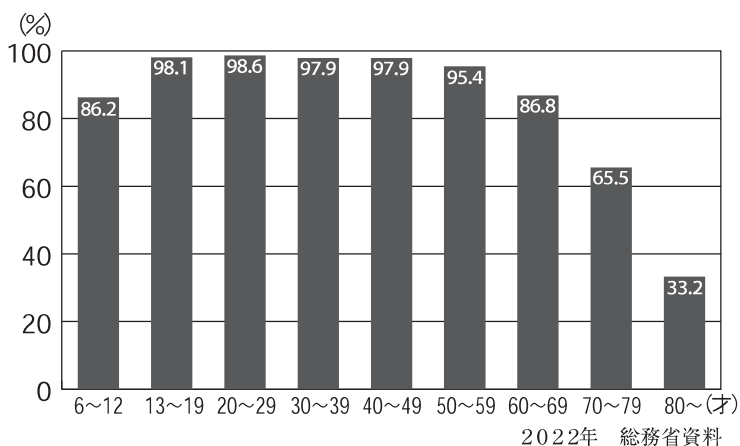
資料1

インターネットの利用率の移り変わり



資料2

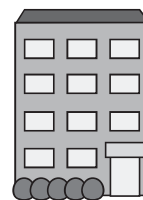

インターネットの年れい層別の利用率



資料3 店のレジでの情報の読み取り、伝達



店のレジ



会社の本部

秀太：資料1によると、日本でのインターネットの利用率は、20年間で大きく増えているね。2020年には、ア 90% をこえているんだね。

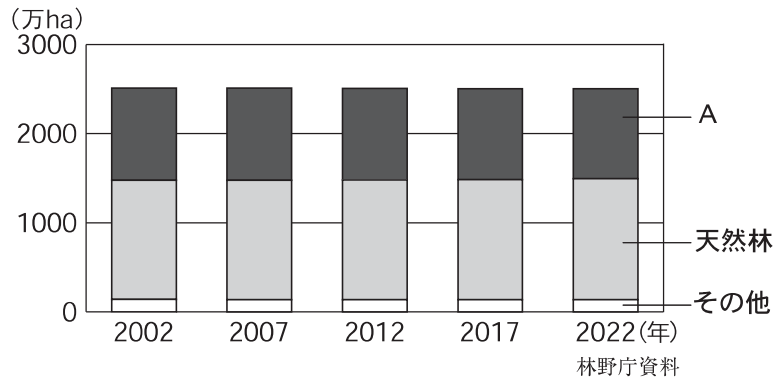
英子：そうだね。でも、資料2によると、年れい層によって利用率はかなりちがうようだよ。いちばん利用率が高い年れい層は、イ 20～29 才だね。

先生：ところで、今は情報化社会だね。情報は産業にも利用されているね。

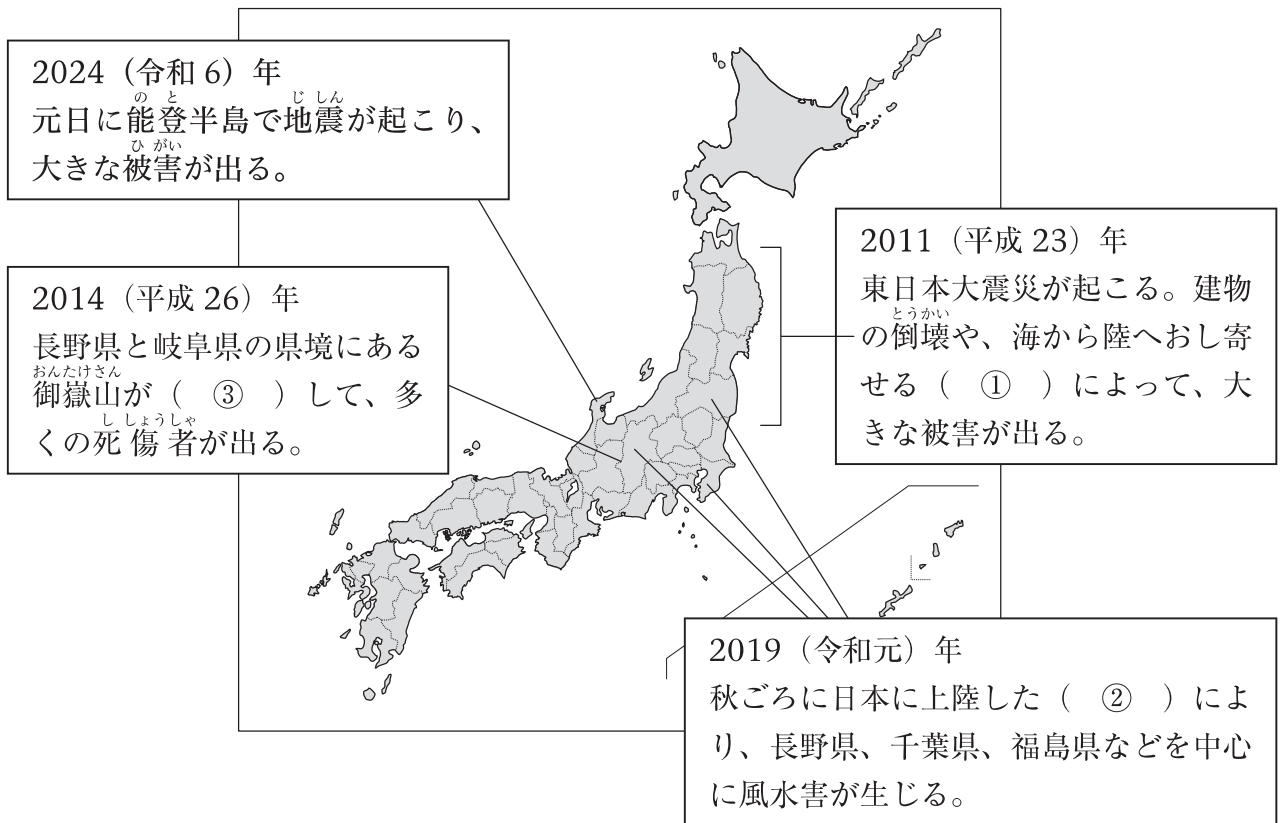
資料3を見てごらん。コンビニエンスストアなどでものを買うと、レジで商品のバーコードから読み取ったデータが会社の本部に送られ、会社の本部では売れた商品の種類・数・金額などの情報を集約することができるね。これを、POSシステムというのだったね。

秀太：また、「人間のよう^に考える機能をそなえた人工知能」のことを表すEICTの利用も、さまざまな場面で進んでいるよね。

(2) 次のグラフは、日本の森林面積の移り変わりを示しています。Aには、人の手で植林されてきた森林があてはまります。Aにあてはまる森林の名前を書きなさい。

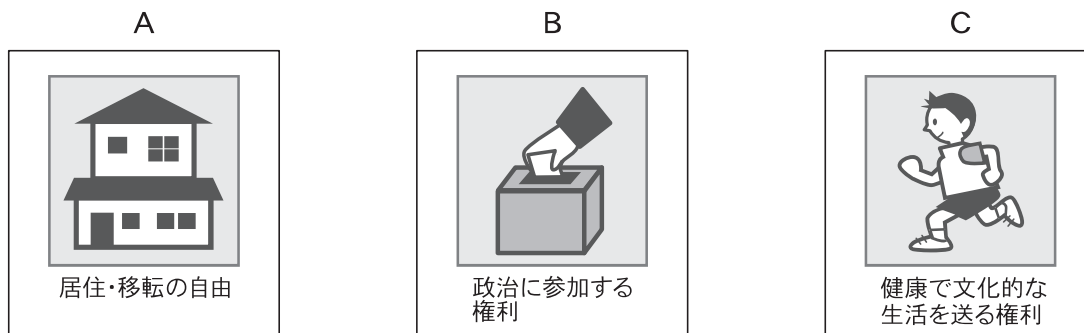


(3) 次の地図は、近年起こった自然災害を示しています。地図の説明中の(①)～(③)にあてはまる語句を書きなさい。



5 ^{けんぽう} 憲法および政治のしくみについて、あとの問いに答えなさい。

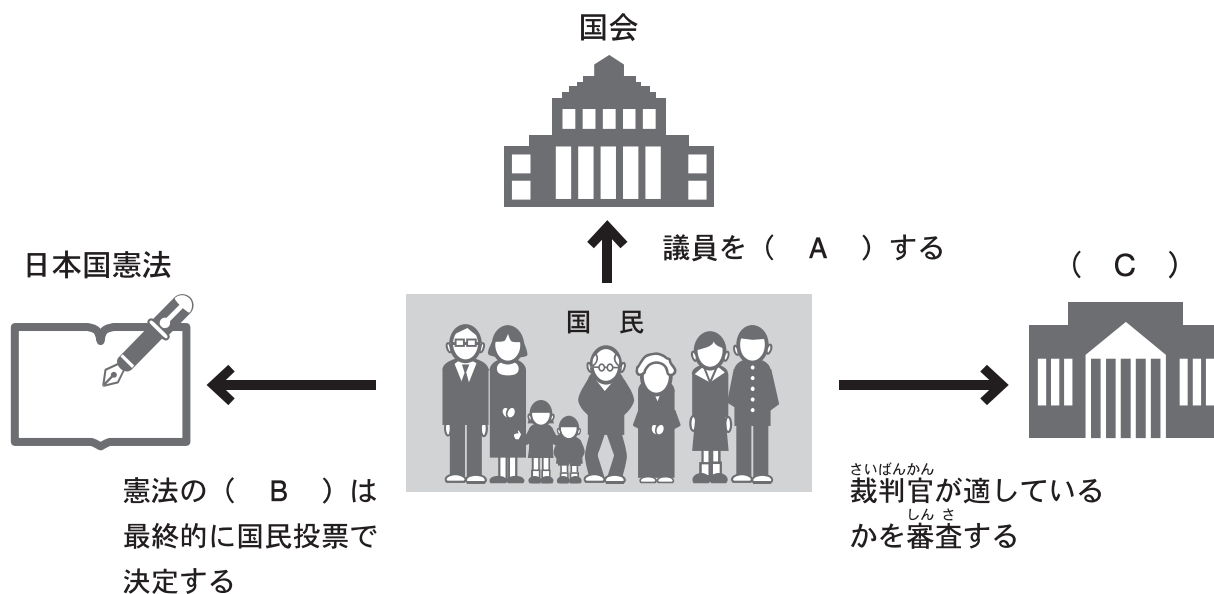
(1) 秀太さんは、日本国憲法で保障^{ほしょう}されている基本的人権^{きほんてきじんけん}を絵とともに示した、次のA～Cの3つのカードをつくりました。また、ある国において、基本的人権が十分に保障されていないことを知り、下の【事例】を記しました。【事例】においてうばわれている基本的人権を、A～Cから1つ選び、記号で答えなさい。



【事例】

ある国では、どこに住むにも政府の許可が必要であり、自由に引っ越しをすることができない。

(2) 次の図は、日本において国民主権を保障するしくみを示した図です。図中のA～Cにあてはまる語句を書きなさい。ただし、A、Bは漢字2字で、Cは漢字5字で書くこと。



次のページへ続く →

(3) 次の表は、国会・内閣・裁判所の主な働きを記したものです。表中の(①)～(③)にあてはまる語句を、下のア～ウから1つずつ選び、記号で答えなさい。

機関	主な働き
国会	<ul style="list-style-type: none"> ・法律を制定する。 ・(①)
内閣	<ul style="list-style-type: none"> ・(②) ・衆議院<small>しゅうぎいん</small>の解散を決める。
裁判所	<ul style="list-style-type: none"> ・憲法や法律<small>ほうりつ</small>にもとづき、争いごとなどを解決する。 ・(③)

- ア 予算案を作成する。
- イ 法律などが憲法いほんに違反していないかを調べる。
- ウ 内閣総理大臣を指名する。